

# ATIVIDADE DE APOIO AO ESTUDANTE

## 5º ANO DO ENSINO FUNDAMENTAL



Caro(a) estudante,

A partir dos resultados da Avaliação Diagnóstica, foram identificados alguns conteúdos e habilidades que precisam ser mais praticados por você. Essa atividade tem a finalidade de ampliar seus conhecimentos. Responda com atenção e depois converse com o(a) professor(a).

Por favor, preencha os campos de identificação abaixo.

UNIDADE ESCOLAR \_\_\_\_\_

MUNICÍPIO \_\_\_\_\_

NOME DO ESTUDANTE \_\_\_\_\_

IDADE \_\_\_\_\_ SEXO: MASCULINO  FEMININO

TURMA \_\_\_\_\_ TURNO \_\_\_\_\_

### LÍNGUA PORTUGUESA

### MATEMÁTICA

#### ORIENTAÇÕES

Esta atividade é composta de 10 questões de Língua Portuguesa e 10 questões de Matemática.

- Leia com atenção antes de responder e marque suas respostas.
- Cada questão tem uma única resposta correta. Marque a opção que você escolher como certa.
- Procure não deixar questão sem resposta.
- Você terá 50 minutos para responder as questões de Língua Portuguesa e de Matemática.
- Atenção! Observe corretamente se a questão é de Língua Portuguesa ou de Matemática, antes de marcar no Cartão de Respostas! Utilize caneta de tinta azul ou preta.

#### CARTÃO DE RESPOSTAS

LÍNGUA PORTUGUESA									
1	2	3	4	5	6	7	8	9	10
A	A	A	A	A	A	A	A	A	A
B	B	B	B	B	B	B	B	B	B
C	C	C	C	C	C	C	C	C	C
D	D	D	D	D	D	D	D	D	D
E	E	E	E	E	E	E	E	E	E
MATEMÁTICA									
1	2	3	4	5	6	7	8	9	10
A	A	A	A	A	A	A	A	A	A
B	B	B	B	B	B	B	B	B	B
C	C	C	C	C	C	C	C	C	C
D	D	D	D	D	D	D	D	D	D
E	E	E	E	E	E	E	E	E	E



As questões de 1 a 4 referem-se ao texto 1 – “Televisão”. Leia o texto com atenção para respondê-las.

**TEXTO 1** **Televisão**

Televisão é uma caixa de imagens que fazem barulho.

Quando os adultos não querem ser incomodados, mandam as crianças ir assistir à televisão.

O que eu gosto mais na televisão são os desenhos animados de bichos.

Bicho imitando gente é muito mais engraçado do que gente imitando gente, como nas telenovelas.

Não gosto muito de programas infantis com gente fingindo de criança.

Em vez de ficar olhando essa gente brincar de mentira, prefiro ir brincar de verdade com meus amigos e amigas.

Também os doces que aparecem anunciados na televisão não têm gosto de coisa alguma porque ninguém pode comer uma imagem.

Já os doces que minha mãe faz e que eu como todo dia, esses sim, são gostosos.

Conclusão: a vida fora da televisão é melhor do que dentro dela.

PAES, J. P. Televisão. In: *Vejam como eu sei escrever*. 1. ed. São Paulo, Ática, 2001. p. 26-27.

**Questão 1** (SaeB/D10) O trecho em que se percebe que o narrador é uma criança é:

- A) “Quando os adultos não querem ser incomodados, mandam as crianças ir assistir à televisão.”
- B) “ Bicho imitando gente é muito mais engraçado do que gente imitando gente, como nas telenovelas.”
- C) “Em vez de ficar olhando essa gente brincar de mentira, prefiro ir brincar de verdade...”
- D) “Também os doces que aparecem anunciados na televisão não têm gosto de coisa alguma...”

**Questão 2** (AAITFM01D12LP5EF) No trecho “Quando adultos não querem ser incomodados,...”, o termo sublinhado dá ideia de

- A) tempo.
- B) lugar.
- C) explicação.
- D) causa.

**Questão 3** (AAITFM02D9LP5EF) Considerando o local que foi publicado, esse texto tem como finalidade

- A) anunciar um fato.
- B) entreter o leitor.
- C) divulgar um programa.
- D) orientar como ver TV.

**Questão 4** (AAITFM03D12LP5EF) O trecho do texto que contém uma ideia de comparação é

- A) “Quando os adultos não querem ser incomodados...”
- B) “...é muito mais engraçado do que gente imitando gente...”
- C) “ Não gosto muito de programas infantis...”
- D) “...prefiro ir brincar de verdade com meus amigos.”

As questões 5 a 7 referem-se ao texto 2 – “Briga de Irmão”. Leia o texto com atenção para respondê-las.

**TEXTO 2** **BRIGA DE IRMÃO**

Com o nascimento do Mário Márcio no ano passado tive de dar um gás no trabalho. O dinheiro que eu ganhava passou a ser pouco para alimentar duas crianças e dois adultos. Decidi correr atrás de clientes maiores oferecendo o serviço de assessoria de imprensa, um trabalho que pode ser feito em casa, sem maiores danos à minha vida de mãe e dona de casa.

Mas Mário Márcio não deixa ninguém trabalhar. Tudo o que Maria de Lourdes teve de quietinha, Mário Márcio tem de chorão, manhoso, grudento, agitado. Virou meu xodó, mas às vezes cansa. O menino exige demais de mim. E não tem se dado muito bem com a irmã.

— Mãe, o Máio Máximo pegou minha bola.

A reclamação tem hora para começar: acontece sempre que estou no meio de um raciocínio, no meio de uma frase. (...)

Thalita Rebouças. *Fala sério, mãe!* Rio de Janeiro: Rocco, 2004

- Questão 5** (Projeto (Con)seguir-RJ/2010/D10) O trecho do texto que revela que o narrador é uma mãe é
- A) “O dinheiro que eu ganhava passou a ser pouco para alimentar duas crianças e dois adultos...”
  - B) “... um trabalho pode ser feito em casa, sem maiores danos a minha vida de mãe e dona de casa.”
  - C) “Tudo que Maria de Lourdes teve de quietinha, Mario Márcio tem de chorão, manhoso...”
  - D) “...acontece sempre que estou no meio de um raciocínio, no meio de uma frase. (...)”

- Questão 6** (questão adaptada/D3) No trecho “Com o nascimento do Mário Márcio no ano passado tive de **dar um gás** no trabalho.”, a expressão “**dar um gás**”, nesse contexto, significa
- (A) permanecer na mesma.
  - (B) despreocupar-se.
  - (C) diminuir o ritmo.
  - (D) intensificar o trabalho.

- Questão 7** (AAITFM04D9LP5EF) O texto lido é um trecho de um(a)
- A) bilhete.
  - B) fábula.
  - C) crônica.
  - D) notícia.

**As questões de 8 a 10 referem-se ao texto 3. Leia o texto com atenção para respondê-las.**

**TEXTO 3 “Crucificado” pela gripe, porco é animal de estimação de famosos**

Ainda não há provas que o incriminem definitivamente pelo atual surto de gripe que atingiu 11 países. Mesmo assim, o porco já vem sendo julgado culpado por autoridades mundo afora, que determinam até a morte de criações inteiras.

Na última segunda-feira (27), a OIE (Organização Mundial para a Saúde Animal) reiterou que ainda não foi comprovada a relação entre o vírus e os animais e pediu que a gripe suína seja denominada gripe da América do Norte.

Mas, para algumas pessoas, pouco importa se a culpa é ou não do porco. Para elas, o animal não é um inimigo, e sim um companheiro para todas as horas.

Fonte: <<http://www1.folha.uol.com.br/acessado>>. Acesso em: 5 set. 2009.

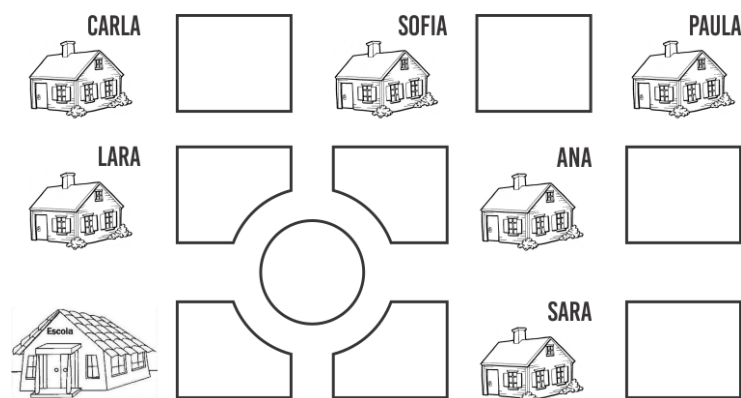
- Questão 8** (SAERJ adaptada/2012/D2) No trecho “Para **elas**, o animal não é um inimigo, e sim um companheiro para todas as horas.”, a palavra destacada “**elas**” ser substituída, sem perder o sentido, por
- A) algumas pessoas.
  - B) criações inteiras.
  - C) as autoridades.
  - D) todas as horas.

- Questão 9** (questão adaptada/D2) No trecho “Ainda não há provas que o incriminem definitivamente pelo atual surto de gripe que atingiu 11 países.”, o termo sublinhado se refere ao
- A) surto.
  - B) vírus.
  - C) inimigo.
  - D) porco.

- Questão 10** (AAITFM05D9LP5EF) Considerando o local que foi publicado, esse texto tem como finalidade
- A) informar.
  - B) divertir.
  - C) vender.
  - D) instruir.

**Questão 1** Carla fez o desenho de algumas ruas de seu bairro, próximas à sua casa. Localizou sua casa e marcou-a com seu nome. Localizou também a casa de 5 amigas e marcou-as com o nome de cada uma delas. Por fim, marcou também a sua escola.

Veja na figura abaixo as marcações que ela fez.



A casa que fica mais distante da escola de Carla é a da amiga:

- A) Ana                      B) Sara                      C) Paula                      D) Sofia

**Questão 2** Uma peça de teatro teve início às 20h30min. Sabendo que a mesma teve duração de 105 minutos, qual é esse tempo da peça em horas?

- A) 1h 5min                      B) 1h 25min                      C) 1h 3min                      D) 1h 45min

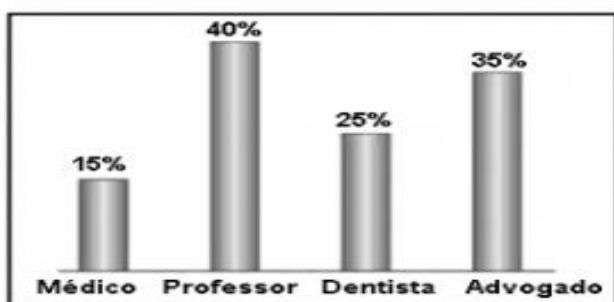
**Questão 3** Um fazendeiro tinha 285 bois. Comprou mais 176 bois e depois vendeu 85 deles. Quantos bois esse fazendeiro tem agora?

- A) 266                      B) 376                      C) 476                      D) 486

**Questão 4** Em uma garagem, estão estacionados carros em 8 fileiras. Em cada fileira há 12 carros. Quantos carros há nesta garagem?

- A) 20                      B) 36                      C) 72                      D) 96

**Questão 5** Os gráficos abaixo apresentam resultados de uma pesquisa. Nessa pesquisa, qual foi a profissão mais escolhida?



- A) Advogado                      B) Dentista                      C) Médico                      D) Professor

**Questão 6** Faltam 5 semanas e 5 dias para Antônio completar 9 anos. Quantos dias faltam para o aniversário de Antônio?

- A) 10                      B) 14                      C) 19                      D) 40

Questão 7 O brinquedo preferido de Alex está no seu lado direito. Qual é o brinquedo preferido de Alex?



- A) bola                      B) bicicleta                      C) carrinho                      D) peteca

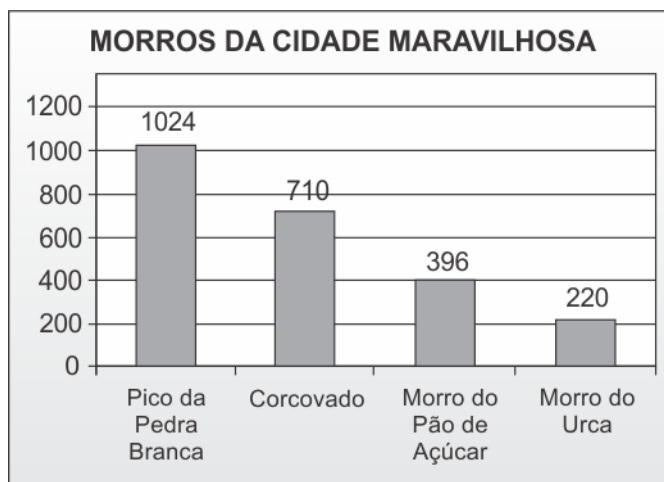
Questão 8 Flávia estava jogando baralho. Na primeira partida, Flávia fez 325 pontos. Na segunda, fez 785 pontos. Na terceira partida, perdeu 465 pontos. Quantos pontos Flávia fez ao final dessas três partidas?

- A) 535                      B) 545                      C) 645                      D) 655

Questão 9 Uma merendeira preparou 558 pães que foram distribuídos igualmente em 18 cestas. Quantos pães foram colocados em cada cesta?

- A) 31                      B) 310                      C) 540                      D) 576

Questão 10 O gráfico a seguir apresenta o perfil de altitude de alguns dos morros da cidade do Rio de Janeiro. O número de metros que o Morro Pão de Açúcar tem a mais que o seu vizinho, Morro da Urca, é de:



- A) 176 m                      B) 196 m                      C) 314 m                      D) 490 m